

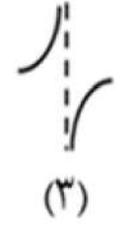

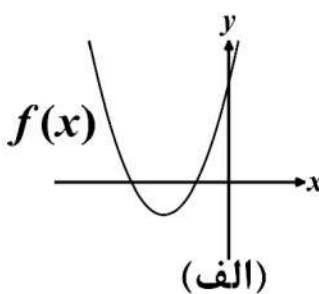
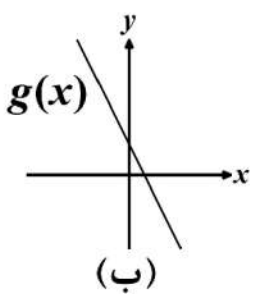
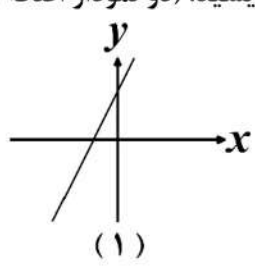
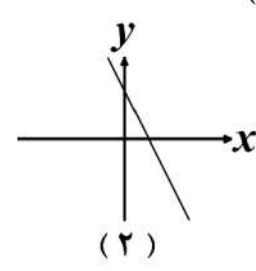
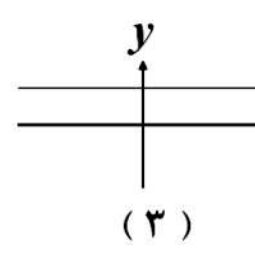
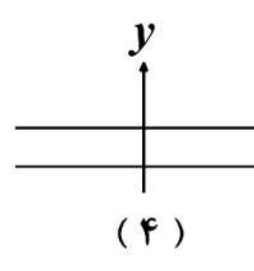
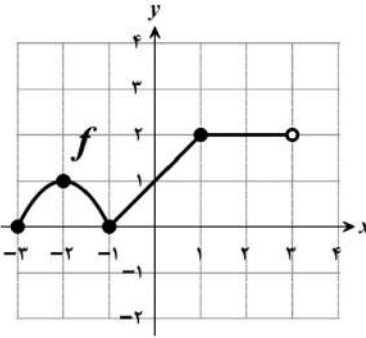
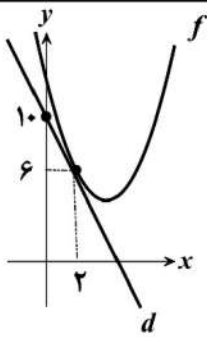


باسمه تعالی

سؤالات آزمون نهایی درس: حسابان (۲)	پایه: دوازدهم	رشته: ریاضی و فیزیک	تاریخ آزمون: ۱۴۰۴/۰۳/۱۸
تعداد صفحه: ۳	مدت آزمون: ۱۲۰ دقیقه	ساعت شروع: ۷:۳۰ به وقت تهران	نام و نام خانوادگی:
دانش آموزان روزانه، بزرگسالان، آموزش از راه دور، ایثارگران، داوطلبان آزاد و متقاضیان ایجاد و یا ترمیم سابقه تحصیلی (داخل و خارج از کشور) - خرداد ۱۴۰۴			
ردیف	سؤالات (پاسخ برگ دارد) - استفاده از ماشین حساب ساده مجاز است.		
	نمره		

۱	<p>درستی یا نادرستی هر یک از عبارت‌های زیر را مشخص کنید.</p> <p>الف) تابع $f(x) = (1-x)^3$، تابعی اکیداً نزولی است.</p> <p>ب) دامنه تابع $y = \tan x$، برابر با مجموعه $D = \left\{ x \in \mathbb{R} \mid x \neq 2k\pi + \frac{\pi}{2}, k \in \mathbb{Z} \right\}$ است.</p>	۰/۵
۲	<p>جاهای خالی را با توجه به عبارت‌های داخل پرانتز، کامل کنید. ([] نماد جزء صحیح است.)</p> <p>الف) مشتق تابع $f(x) = \sqrt{2}$ در $x = 1$، برابر است. (صفر، یک)</p> <p>ب) نقطه‌ای به طول $x = 2$، نقطه تابع $f(x) = [x]$ است. (ماکزیمم نسبی، مینیمم نسبی)</p>	۰/۵
۳	<p>کدام شکل زیر وضعیت نمودار تابع $f(x) = \frac{1}{1 - \cos x}$ را در همسایگی $x = 0$ نمایش می‌دهد؟ (شماره شکل مربوط به آن را در پاسخ برگ بنویسید.)</p> <div style="display: flex; justify-content: space-around; align-items: center;">     </div>	۰/۲۵
۴	<p>نمودار توابع f و g به صورت زیر است.</p> <div style="display: flex; justify-content: space-around; align-items: center;">   </div> <p>نمودار مشتق هر کدام از توابع f و g را از بین نمودارهای زیر انتخاب کنید. سپس شماره مربوط به آن را در پاسخ برگ بنویسید. (دو نمودار اضافه است.)</p> <div style="display: flex; justify-content: space-around; align-items: center;">     </div>	۰/۵

سؤالات آزمون نهایی درس: حسابان (۲)		پایه: دوازدهم	رشته: ریاضی و فیزیک	تاریخ آزمون: ۱۴۰۴/۰۳/۱۸
تعداد صفحه: ۳	مدت آزمون: ۱۲۰ دقیقه	ساعت شروع: ۷:۳۰ به وقت تهران	نام و نام خانوادگی:	
دانش آموزان روزانه، بزرگسالان، آموزش از راه دور، ایثارگران، داوطلبان آزاد و متقاضیان ایجاد و یا ترمیم سابقه تحصیلی (داخل و خارج از کشور) - خرداد ۱۴۰۴				
ردیف	سؤالات (پاسخ‌برگ دارد) - استفاده از ماشین حساب ساده مجاز است.			
نمره				

۵	<p>نمودار تابع f در شکل زیر رسم شده است. اگر تابع $g(x) = 3f\left(\frac{1}{3}x\right) + 1$ باشد، آن‌گاه:</p> <p>الف) دامنه و برد تابع g را به صورت بازه بنویسید.</p> <p>ب) اگر $A = (-2, 1)$ یک نقطه از نمودار تابع f باشد، آن‌گاه نقطه متناظر A، روی نمودار تابع g را بنویسید.</p> 	۱/۵
۶	مقادیر a و b را طوری تعیین کنید که چندجمله‌ای $p(x) = 2x^3 + ax^2 - bx + 2$ بر $x + 2$ بخش‌پذیر و باقی‌مانده تقسیم آن بر $x - 1$ برابر با ۲ باشد.	۱/۲۵
۷	دوره تناوب و مقدار ماکزیمم تابع $f(x) = 2 - 3\sin 4x$ را به دست آورید.	۰/۵
۸	جواب‌های کلی معادله مثلثاتی $2 + 3\sin x = \cos 2x$ را به دست آورید.	۱/۵
۹	اگر $\tan \alpha = \frac{2}{3}$ و $\tan \beta = -1$ باشد، آن‌گاه مقدار $\tan(\alpha + \beta)$ را محاسبه کنید.	۰/۷۵
۱۰	<p>حاصل حدهای زیر را در صورت وجود به دست آورید. ([] نماد جزء صحیح است.)</p> <p>الف) $\lim_{x \rightarrow 0^+} \frac{[x] + \cos x}{\sin x}$</p> <p>ب) $\lim_{x \rightarrow -\infty} \frac{-4x^3 + 5x + 2}{7x^3 + 3x^2}$</p>	۱/۲۵
۱۱	مجانب‌های قائم و افقی نمودار تابع $f(x) = \frac{5x + 2}{x^2 - 4}$ را در صورت وجود به دست آورید. (راه حل نوشته شود).	۱/۵
۱۲	<p>مطابق شکل روبه‌رو، خط d بر نمودار تابع f در نقطه $(2, 6)$ مماس است.</p> <p>حاصل $\lim_{h \rightarrow 0} \frac{f(2) - f(2+h)}{3h}$ را به دست آورید.</p> 	۰/۷۵

باسمه تعالی

سوال‌ات آزمون نهایی درس: حسابان (۲)	پایه: دوازدهم	رشته: ریاضی و فیزیک	تاریخ آزمون: ۱۴۰۴/۰۳/۱۸
تعداد صفحه: ۳	مدت آزمون: ۱۲۰ دقیقه	ساعت شروع: ۷:۳۰ به وقت تهران	نام و نام خانوادگی:
دانش آموزان روزانه، بزرگسالان، آموزش از راه دور، ایثارگران، داوطلبان آزاد و متقاضیان ایجاد و یا ترمیم سابقه تحصیلی (داخل و خارج از کشور) - خرداد ۱۴۰۴			
ردیف	سوال‌ات (پاسخ‌برگ دارد) - استفاده از ماشین حساب ساده مجاز است.		
	نمره		

۱۳	مشتق توابع زیر را به دست آورید. (ساده کردن مشتق الزامی نیست.) الف) $f(x) = (1 + \sin 5x)^3$ ب) $g(x) = (x^3 - 5x)(\sqrt{x^2 + 1})$	۱/۷۵
۱۴	به کمک تعریف مشتق، مشتق‌پذیری تابع $f(x) = \begin{cases} x^2 + 3 & x \geq 1 \\ 4x & x < 1 \end{cases}$ را در نقطه $x = 1$ بررسی کنید.	۱/۲۵
۱۵	الف) اگر f تابعی پیوسته با دامنه اعداد حقیقی باشد و $f(3) = 8 + f(1)$ ، آن‌گاه آهنگ متوسط تغییر تابع f را در بازه $[1, 3]$ به دست آورید. ب) آهنگ تغییر لحظه‌ای تابع $g(x) = \sqrt[3]{x}$ را در نقطه $x = 27$ ، به دست آورید.	۱
۱۶	مقادیر اکسترم‌های مطلق تابع $f(x) = \frac{-2}{3}x^3 - x^2 + 4x + 1$ را در بازه $[-3, 2]$ به دست آورید.	۲
۱۷	مقادیر a و b را در تابع $f(x) = x^3 + ax^2 + bx$ طوری به دست آورید که $x = 2$ ، طول نقطه اکسترم نسبی و $x = 0$ ، طول نقطه عطف این تابع باشد.	۱/۲۵
۱۸	جدول رفتار و نمودار تابع $f(x) = \frac{2x + 4}{x - 1}$ را رسم کنید.	۲
	موفق باشید	۲۰
صفحه ۳ از ۳		

راهنمای نمره‌گذاری آزمون نهایی درس: حسابان (۲)		پایه: دوازدهم	رشته: ریاضی و فیزیک	تاریخ آزمون: ۱۴۰۴/۰۳/۱۸
تعداد صفحه: ۶		مدت آزمون: ۱۲۰ دقیقه		ساعت شروع: ۷:۳۰ به وقت تهران
دانش آموزان روزانه، بزرگسالان، آموزش از راه دور، ایثارگران، داوطلبان آزاد و متقاضیان ایجاد و یا ترمیم سابقه تحصیلی (داخل و خارج از کشور) - خرداد ۱۴۰۴				
مرکز ارزشیابی و تضمین کیفیت نظام آموزش و پرورش				
ردیف		راهنمای نمره‌گذاری		
نمره				

۱	الف) درست (۵ / ۰) (صفحه ۱۷) ب) نادرست (۵ / ۰) (صفحه ۳۲) ۰/۵	
۲	الف) صفر (۵ / ۰) (صفحه ۹۲) ب) ماکزیمم نسبی (۵ / ۰) (صفحه ۱۱۴) ۰/۵	
۳	شکل شماره (۴) (۵ / ۰) (صفحه ۵۸) ۰/۲۵	
۴	الف) نمودار شماره (۱) (۵ / ۰) (صفحه ۱۰۰) ب) نمودار شماره (۴) (۵ / ۰) (صفحه ۱۰) ۰/۵	
۵	الف) (صفحه ۱۰) $D_g = [-6, 6]$ (۵ / ۰) ب) $R_g = [1, 7]$ (۵ / ۰) ۱/۵ توضیحات جهت نمره‌گذاری: در صورتی که باز یا بسته بودن بازه‌ها، دقیق مشخص نشود، برای هر مورد (۵ / ۰) کسر گردد.	
۶	(صفحه ۱۳) $\begin{cases} p(-2) = 0 \\ p(1) = 2 \end{cases} \Rightarrow \begin{cases} 2a + b = 7 \\ a - b = -2 \end{cases} \Rightarrow \begin{cases} a = \frac{5}{3} \\ b = \frac{11}{3} \end{cases}$ (۵ / ۰) ۱/۲۵ توضیحات جهت نمره‌گذاری: اگر با استفاده از قضیه تقسیم (چندجمله‌ای بر چندجمله‌ای)، دستگاه معادلات فوق حاصل شود و به درستی مقادیر a و b به دست آید، به تناسب نمره تعلق گیرد.	
۷	(صفحه ۲۷) $\max = -3 + 2 = 5$ (۵ / ۰) , $T = \frac{2\pi}{ 4 } = \frac{\pi}{2}$ (۵ / ۰) ۰/۵ توضیحات جهت نمره‌گذاری: اگر مقادیر ماکزیمم و دوره تناوب نمودار تابع از طریق روش هندسی (رسم نمودار تابع و مشخص کردن دقیق دوره تناوب و ماکزیمم) مشخص شود، به تناسب نمره تعلق گیرد.	
۸	(صفحه ۳۷) $2 + 3 \sin x = 1 - 2 \sin^2 x \Rightarrow 2 \sin^2 x + 3 \sin x + 1 = 0 \Rightarrow$ (۵ / ۰) $\begin{cases} \sin x = -1 \\ \sin x = -\frac{1}{2} \end{cases} \Rightarrow \begin{cases} x = 2k\pi - \frac{\pi}{2} \\ x = 2k\pi - \frac{\pi}{6} \\ x = (2k+1)\pi + \frac{\pi}{6} \end{cases} \quad (۵ / ۰)$ ۱/۵ توضیحات جهت نمره‌گذاری: اگر معادله از طریق روش هندسی حل شود (رسم نمودار توابع و مشخص کردن دقیق محل تلاقی) به تناسب نمره تعلق گیرد.	

راهنمای نمره‌گذاری آزمون نهایی درس: حسابان (۲)		پایه: دوازدهم	رشته: ریاضی و فیزیک	تاریخ آزمون: ۱۴۰۴/۰۳/۱۸
تعداد صفحه: ۶		مدت آزمون: ۱۲۰ دقیقه		ساعت شروع: ۷:۳۰ به وقت تهران
دانش آموزان روزانه، بزرگسالان، آموزش از راه دور، اینترگران، داوطلبان آزاد و متقاضیان ایجاد و یا ترمیم سابقه تحصیلی (داخل و خارج از کشور) - خرداد ۱۴۰۴		مرکز ارزشیابی و تضمین کیفیت نظام آموزش و پرورش		
		نمره		
راهنمای نمره‌گذاری		ردیف		

۰/۷۵	<p style="text-align: right;">(صفحه ۴۲)</p> $\tan(\alpha + \beta) = \frac{\tan(\alpha) + \tan(\beta)}{1 - \tan(\alpha)\tan(\beta)} = \frac{\frac{2}{3} + (-1)}{1 - (\frac{2}{3})(-1)} = \frac{-1}{5} \quad (0/25)$ <p style="text-align: right;">روش اول:</p> $\tan \beta = -1 \Rightarrow \beta = k\pi - \frac{\pi}{4}$ <p style="text-align: right;">روش دوم:</p> $\tan(\alpha + \beta) = \frac{\sin(\alpha + \beta)}{\cos(\alpha + \beta)} = \frac{\sin \alpha \cos \beta + \cos \alpha \sin \beta}{\cos \alpha \cos \beta - \sin \alpha \sin \beta} = \begin{cases} \frac{\sin \alpha - \cos \alpha}{\cos \alpha + \sin \alpha} & k = 2, 4, \dots \\ \frac{\sin \alpha - \cos \alpha}{\cos \alpha + \sin \alpha} & k = 1, 3, \dots \end{cases}$ $\cos \alpha = \frac{3}{\sqrt{13}}, \sin \alpha = \frac{2}{\sqrt{13}} \Rightarrow \frac{\sin \alpha - \cos \alpha}{\cos \alpha + \sin \alpha} = \frac{-1}{5} \quad (0/25) \Rightarrow \tan(\alpha + \beta) = \frac{-1}{5}$ $\cos \alpha = \frac{-3}{\sqrt{13}}, \sin \alpha = \frac{-2}{\sqrt{13}} \Rightarrow \frac{\sin \alpha - \cos \alpha}{\cos \alpha + \sin \alpha} = \frac{-1}{5} \quad (0/25)$ <p style="text-align: right;">توضیحات جهت نمره گذاری: اگر با استفاده از دیگر روابط مثلثاتی به جواب برسد، به تناسب نمره تعلق گیرد.</p>	۹
۱/۲۵	<p style="text-align: right;">(الف) روش اول: (صفحه ۵۳)</p> $\lim_{x \rightarrow 0^+} \frac{[x] + \cos x}{\sin x} = \frac{1}{0^+} = +\infty \quad (0/25)$ <p style="text-align: right;">روش دوم:</p> $\lim_{x \rightarrow 0^+} \frac{[x] + \cos x}{\sin x} = \lim_{x \rightarrow 0^+} \left(\frac{[x]}{\sin x} + \cot x \right) = 0 + \infty = +\infty \quad (0/25)$ <p style="text-align: right;">(ب) روش اول: (صفحه ۶۶)</p> $\lim_{x \rightarrow -\infty} \frac{-4x^3 + 5x + 2}{7x^3 + 3x^2} = \lim_{x \rightarrow -\infty} \frac{-4x^3}{7x^3} = \frac{-4}{7} \quad (0/5)$ <p style="text-align: right;">توضیحات جهت نمره گذاری: اگر فقط عبارت $\lim_{x \rightarrow -\infty} \frac{-4x^3}{7x^3}$ در پاسخ برگ نوشته شود، (۰/۲۵) تعلق گیرد.</p>	۱۰

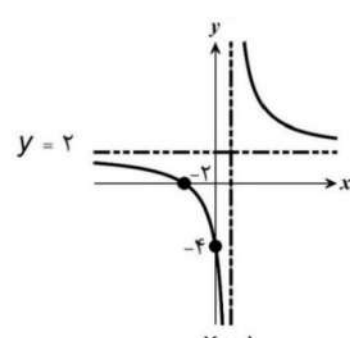
تاریخ آزمون: ۱۴۰۴/۰۳/۱۸	رشته: ریاضی و فیزیک	پایه: دوازدهم	راهنمای نمره‌گذاری آزمون نهایی درس: حسابان (۲)
ساعت شروع: ۷:۳۰ به وقت تهران		مدت آزمون: ۱۲۰ دقیقه	تعداد صفحه: ۶
مرکز ارزشیابی و تضمین کیفیت نظام آموزش و پرورش	دانش آموزان روزانه، بزرگسالان، آموزش از راه دور، ایتارگران، داوطلبان آزاد و متقاضیان ایجاد و یا ترمیم سابقه تحصیلی (داخل و خارج از کشور) - خرداد ۱۴۰۴		
نمره	راهنمای نمره‌گذاری		

۱/۵	<p>۱۱</p> <p>(۰ / ۲۵) مجانب افقی $\lim_{x \rightarrow \pm\infty} \frac{\Delta x + 2}{x^2 - 4} = \lim_{x \rightarrow \pm\infty} \frac{\Delta x}{x^2} = 0 \Rightarrow y = 0$ (صفحه ۶۹)</p> <p>$x^2 - 4 = 0 \Rightarrow x = \pm 2$</p> <p>(۰ / ۲۵) $\lim_{x \rightarrow 2^-} \frac{\Delta x + 2}{x^2 - 4} = \frac{12}{0^-} = -\infty$ یا $\lim_{x \rightarrow 2^+} \frac{\Delta x + 2}{x^2 - 4} = \frac{12}{0^+} = +\infty$</p> <p>در نتیجه خط $x = 2$ مجانب قائم تابع است. (۰ / ۲۵)</p> <p>(۰ / ۲۵) $\lim_{x \rightarrow (-2)^-} \frac{\Delta x + 2}{x^2 - 4} = \frac{-8}{0^+} = -\infty$ یا $\lim_{x \rightarrow (-2)^+} \frac{\Delta x + 2}{x^2 - 4} = \frac{-8}{0^-} = +\infty$</p> <p>در نتیجه خط $x = -2$ مجانب قائم تابع است. (۰ / ۲۵)</p> <p>توضیحات جهت نمره‌گذاری: اگر با محاسبه ریشه‌های مخرج (که ریشه صورت نیست)، به مجانب قائم بودن $x = \pm 2$ اشاره شود، (۰ / ۵) نمره تعلق گیرد.</p>
۰/۷۵	<p>۱۲</p> <p>(صفحه ۷۷) $\lim_{h \rightarrow 0} \frac{f(2) - f(2+h)}{3h} = \frac{-1}{3} f'(2) = \frac{-1}{3} (6 - 10) = \frac{2}{3}$ (۰/۲۵) (۰/۲۵) (۰/۲۵)</p>
۱/۷۵	<p>۱۳</p> <p>الف (صفحه ۹۶) $f'(x) = \underbrace{(3)}_{(0/25)} \underbrace{(\Delta \cos \Delta x)}_{(0/25)} \underbrace{(1 + \sin \Delta x)^2}_{(0/25)}$</p> <p>ب) روش اول: (صفحه ۹۶) $g'(x) = \underbrace{(3x^2 - 5)}_{(0/25)} \underbrace{(\sqrt{x^2 + 1})}_{(0/25)} + \underbrace{\left(\frac{2x}{2\sqrt{x^2 + 1}}\right)}_{(0/25)} \underbrace{(x^3 - 5x)}_{(0/25)}$</p> <p>روش دوم: $g'(x) = \underbrace{(3x^2 - 5)}_{(0/25)} \underbrace{(\sqrt{x^2 + 1})}_{(0/25)} + \underbrace{\left(\frac{1}{2}\right)}_{(0/25)} \underbrace{(2x)}_{(0/25)} \underbrace{(x^2 + 1)^{-1/2}}_{(0/25)} \underbrace{(x^3 - 5x)}_{(0/25)}$</p>
۱/۲۵	<p>۱۴</p> <p>روش اول: (صفحه ۱۰۰) $f'_+(1) = \lim_{x \rightarrow 1^+} \frac{f(x) - f(1)}{x - 1} = \lim_{x \rightarrow 1^+} \frac{x^2 + 3 - 4}{x - 1} = \lim_{x \rightarrow 1^+} \frac{x^2 - 1}{x - 1} = 2$ (۰ / ۲۵)</p> <p>$f'_-(1) = \lim_{x \rightarrow 1^-} \frac{f(x) - f(1)}{x - 1} = \lim_{x \rightarrow 1^-} \frac{4x - 4}{x - 1} = 4$ (۰ / ۲۵)</p> <p>با توجه به اینکه $f'_+(1) \neq f'_-(1)$، نتیجه می‌شود که تابع f در نقطه $x = 1$ مشتق پذیر نیست. (۰ / ۲۵)</p>

تاریخ آزمون: ۱۴۰۴/۰۳/۱۸	رشته: ریاضی و فیزیک	پایه: دوازدهم	راهنمای نمره گذاری آزمون نهایی درس: حسابان (۲)
ساعت شروع: ۷:۳۰ به وقت تهران			تعداد صفحه: ۶ مدت آزمون: ۱۲۰ دقیقه
مرکز ارزشیابی و تضمین کیفیت نظام آموزش و پرورش		دانش آموزان روزانه، بزرگسالان، آموزش از راه دور، ایثارگران، داوطلبان آزاد و متقاضیان ایجاد و یا ترمیم سابقه تحصیلی (داخل و خارج از کشور) - خرداد ۱۴۰۴	
نمره		راهنمای نمره گذاری	ردیف

	<p style="text-align: right;">روش دوم:</p> $\left\{ \begin{array}{l} \overbrace{f'_+(1) = \lim_{h \rightarrow 0^+} \frac{f(1+h) - f(1)}{h} = \lim_{h \rightarrow 0^+} \frac{(1+h)^2 + 3 - 4}{h} = \lim_{h \rightarrow 0^+} h + 2 = 2}^{(0/25)} \\ \underbrace{f'_-(1) = \lim_{h \rightarrow 0^-} \frac{f(1+h) - f(1)}{h} = \lim_{h \rightarrow 0^-} \frac{4(1+h) - 4}{h} = \lim_{h \rightarrow 0^-} \frac{4h}{h} = 4}_{(0/25)} \end{array} \right. \quad (0/25)$ <p>با توجه به اینکه $f'_+(1) \neq f'_-(1)$، نتیجه می شود که تابع f در نقطه $x = 1$ مشتق پذیر نیست. $(0/25)$</p> <p>توضیحات جهت نمره گذاری: اگر از طریق رسم نمودار و مشخص کردن نقطه گشوده ای جواب حاصل شود یا از طریق استفاده از دستوره های مشتق (قضیه های مشتق گیری)، مشتق ناپذیر بودن تابع در $x = 1$ مشخص شود $(0/5)$ نمره تعلق گیرد. اگر فقط به جمله (تابع f در نقطه $x = 1$ مشتق پذیر نیست.) اشاره کند، $(0/25)$ نمره تعلق گیرد.</p>	۱۵
۱	<p>الف) روش اول: (صفحه ۱۱۰)</p> $\frac{f(3) - f(1)}{3 - 1} = \frac{f(1) + 8 - f(1)}{2} = 4$ <p style="text-align: center;">$(0/25)$ $(0/25)$</p> <p>روش دوم: $f(3) - f(1) = 8$ در نتیجه $(0/25)$</p> $\frac{f(3) - f(1)}{2} = 4 \quad (0/25)$ <p>ب) روش اول:</p> $\underbrace{g'(x) = \frac{1}{3\sqrt[3]{x^2}}}_{(0/25)} \Rightarrow g'(27) = \frac{1}{3\sqrt[3]{27^2}} = \frac{1}{27}$ <p style="text-align: center;">$(0/25)$</p> <p>روش دوم:</p> $g(x) = x^{\frac{1}{3}} \Rightarrow g'(x) = \frac{1}{3} x^{-\frac{2}{3}} = \frac{1}{3\sqrt[3]{x^2}} \Rightarrow g'(27) = \frac{1}{27}$	۱۶
۲	<p>(صفحه ۱۱۶)</p> $f'(x) = -2x^2 - 2x + 4 \quad (0/25) \xrightarrow{f'=0} x = -2, x = 1 \quad (0/25)$ <p>در نتیجه نقاط $x = -2$ و $x = 1$ نقاط بحرانی تابع هستند.</p> <p>$f(1) = \frac{10}{3} \quad (0/25)$ و $f(-2) = \frac{-17}{3} \quad (0/25)$</p> <p>$f(-3) = -2 \quad (0/25)$ و $f(2) = -\frac{1}{3} \quad (0/25)$</p> <p>مقدار ماکزیمم مطلق تابع f برابر $y = \frac{10}{3} \quad (0/25)$ و مقدار مینیمم مطلق تابع f برابر $y = \frac{-17}{3} \quad (0/25)$ است.</p> <p>توضیحات جهت نمره گذاری: اگر با رسم دقیق شکل، مقادیر اکسترمم های مطلق به صورت دقیق مشخص شود، به تناسب نمره تعلق گیرد.</p>	

تاریخ آزمون: ۱۴۰۴/۰۳/۱۸	رشته: ریاضی و فیزیک	پایه: دوازدهم	راهنمای نمره‌گذاری آزمون نهایی درس: حسابان (۲)
ساعت شروع: ۷:۳۰ به وقت تهران			تعداد صفحه: ۶ مدت آزمون: ۱۲۰ دقیقه
مرکز ارزشیابی و تضمین کیفیت نظام آموزش و پرورش			دانش آموزان روزانه، بزرگسالان، آموزش از راه دور، اینترگران، داوطلبان آزاد و متقاضیان ایجاد و یا ترمیم سابقه تحصیلی (داخل و خارج از کشور) - خرداد ۱۴۰۴
نمره	راهنمای نمره‌گذاری		

۱/۲۵	$f'(x) = 3x^2 + 2ax + b \quad (۵/۵)$ $f''(x) = 6x + 2a \quad (۵/۵)$ $\begin{cases} f''(0) = 0 \\ f'(2) = 0 \end{cases} \quad (۵/۵) \Rightarrow a = 0 \quad (۵/۵), \quad b = -12 \quad (۵/۵)$	۱۷ (صفحه ۱۳۱)																								
۲	<p>تعیین محل برخورد با محورها (به صورت جبری، به صورت مختصاتی، در جدول رفتار و یا بر روی نمودار) هر کدام (۵/۵) تعلق گیرد.</p> <p>مشخص کردن هر یک از مجانب‌ها (از طریق تعریف، فرمول، در جدول یا بر روی نمودار) هر کدام (۵/۵) تعلق گیرد.</p> <p>در نتیجه $y = 2$، $y = \frac{a}{c} = 2$ یا $\lim_{x \rightarrow \pm\infty} \frac{2x+4}{x-1} = 2$، y مجانب افقی تابع است.</p> <p>در نتیجه $x = 1$، $x = \frac{-d}{c} = 1$ یا $\lim_{x \rightarrow 1^-} \frac{2x+4}{x-1} = -\infty$ یا $\lim_{x \rightarrow 1^+} \frac{2x+4}{x-1} = +\infty$، x مجانب قائم است.</p> <table border="1"> <tr> <td>x</td> <td>$-\infty$</td> <td>-2</td> <td>0</td> <td>1</td> <td>$+\infty$</td> </tr> <tr> <td>f'</td> <td>-</td> <td>-</td> <td>-</td> <td>-</td> <td>-</td> </tr> <tr> <td>f''</td> <td>-</td> <td>-</td> <td>-</td> <td>0</td> <td>+</td> </tr> <tr> <td>f</td> <td>2</td> <td>↘</td> <td>↘</td> <td>↘</td> <td>2</td> </tr> </table> <p>(صفحه ۱۴۱)</p> <p>محاسبه مشتق اول و تعیین علامت آن در جدول (۵/۵)</p> $f'(x) = \frac{-6}{(x-1)^2}$ <p>محاسبه مشتق دوم، تعیین علامت آن و مشخص کردن جهت تقعر در جدول (۵/۵)</p> $f''(x) = \frac{12}{(x-1)^3}$ <p>رسم صحیح هر شاخه از نمودار (۵/۵)</p> 	x	$-\infty$	-2	0	1	$+\infty$	f'	-	-	-	-	-	f''	-	-	-	0	+	f	2	↘	↘	↘	2	۱۸
x	$-\infty$	-2	0	1	$+\infty$																					
f'	-	-	-	-	-																					
f''	-	-	-	0	+																					
f	2	↘	↘	↘	2																					

راهنمای نمره‌گذاری آزمون نهایی درس: حسابان (۲)		پایه: دوازدهم	رشته: ریاضی و فیزیک	تاریخ آزمون: ۱۴۰۴/۰۳/۱۸	
تعداد صفحه: ۶		مدت آزمون: ۱۲۰ دقیقه		ساعت شروع: ۷:۳۰ به وقت تهران	
دانش آموزان روزانه، بزرگسالان، آموزش از راه دور، اینترگران، داوطلبان آزاد و متقاضیان ایجاد و یا ترمیم سابقه تحصیلی (داخل و خارج از کشور) - خرداد ۱۴۰۴					
ردیف		راهنمای نمره‌گذاری			نمره

با عرض سلام و ادب

همکاران گرامی با تشکر از زحمات شما؛ لطفاً هنگام تصحیح اوراق به موارد زیر نیز توجه بفرمایید:

- ۱- برای ایجاد عدالت در تصحیح اوراق امتحانی دانش آموزان، راهنمای نمره گذاری (قابل استناد) ملاک اصلی برای تخصیص نمره به مراحل حل هریک از سوالات می باشد،
- ۲- در صورتی که در حل سوالی در یکی از مراحل حل، خطایی رخ داده باشد - بعضاً محاسباتی - اگر پس از آن خطا بقیه مراحل حل به درستی انجام شده باشد، فقط نمره خطای انجام شده کسر گردد و نمرات بقیه مراحل روند درست حل، مانند راهنمای نمره گذاری (قابل استناد) منظور گردد.

با تقدیر و تشکر و آرزوی سلامتی برای همه شما عزیزان